

令和2年度(2020年度)

浦和明の星女子中学校入学試験問題
(第一回)

理 科・社 会

(50分)

理 科 1 ページ～12 ページ
社 会 14 ページ～23 ページ

注 意

1. 試験の開始まで問題用紙を開かないこと。
2. 問題用紙は全部で23ページある。試験開始と同時にページ数を確認すること。
3. 答えはすべて解答用紙の決められたところに、はっきり書くこと。なお、解答用紙の※印欄のところは記入しないこと。
4. 受験番号は、問題用紙と解答用紙の両方に書くこと。
5. 印刷のはっきりしないところがある場合は、手をあげて係の先生に聞くこと。

受験番号

社会

I 次は北陸新幹線の時刻表をあらわしたものです。表をみて、あとの問いに答えなさい。

①大宮	8:18
②高崎	8:43
軽井沢	9:00
③長野	9:32
④上越妙高	9:58
糸魚川	10:12
⑤富山	10:39
新高岡	10:48
⑥金沢	11:02

問1 下線部①について。大宮駅のある埼玉県では2019年に新しい県知事が決まりました。都道府県知事について述べた説明文として正しいものを、次の(ア)～(エ)から一つ選び、記号で答えなさい。

- (ア) 知事の被選挙権は参議院議員と同じで、日本国籍をもつ30歳以上の国民である。
- (イ) 知事は県議会議員の中から候補者が指名され、内閣総理大臣が任命する。
- (ウ) 前埼玉県知事は6年の任期を終え、4期までしか在任できないという憲法の規定により、退任した。
- (エ) 都道府県知事や市町村長は、国会議員や地方の議員と兼ねてつとめることができる。

問2 下線部②について。高崎駅のある群馬県、および外国人労働者についてあとの問いに答えなさい。

(1) 群馬県大泉町はブラジルやペルーなどからの外国人労働者が多い町として知られています。ブラジルやペルーについて述べた説明文として誤っているものを、次の(ア)～(エ)から一つ選び、記号で答えなさい。

- (ア) ブラジルでは、2014年にサッカーのワールドカップがおこなわれ、2016年にはリオデジャネイロオリンピックがおこなわれた。
- (イ) ペルーの西部にはアンデス山脈があり、アンデス山中のマチュピチュ遺跡は世界遺産に登録されている。
- (ウ) ブラジルのリオデジャネイロでは、1992年に「国連環境開発会議（地球サミット）」、また2012年には「国連持続可能な開発会議（リオ+20）」がおこなわれた。
- (エ) ペルーには太平洋と大西洋を結ぶ運河がつくられており、通行料は国の貴重な収入源となっている。

(2) 日本で生活している外国人のおかれた^{じょうきょう}状況について述べた説明文として正しいものを、次の(ア)～(エ)から一つ選び、記号で答えなさい。

- (ア) 日本人の雇用を守るため、来日する外国人労働者を減らす政策がとられている。
- (イ) 日本の学校に留学している学生は、「技能実習生」とよばれ、働きながら学んでいる。
- (ウ) 外国出身のスポーツ選手など有名人の中には、日本の^{こくせき}国籍を取っている人もいる。
- (エ) 外国人は都道府県庁や市役所などの^{こうてき}公的機関で、公務員として働くことはできない。

(3) 群馬県について述べた説明文として、誤っているものを、次の(ア)～(エ)から一つ選び、記号で答えなさい。

- (ア) 群馬県の歴史、自然、人物、産業をよんだ「上毛かるた」のなかには^{うちむらかんぞう}内村鑑三、^{にいしまじょう}新島襄など群馬県にゆかりのある人物がよまれたものがある。
- (イ) ^{つまごい}嬭恋村は、冷涼で夏に雨が多い高原の気候に^{くわ}加え、高速道路などの交通網が整備されたことから、キャベツの一大産地となった。
- (ウ) ^{あかぎ}赤城山ろくの水はけのよい火山土壌などの自然条件を生かした、こんにゃくいもの生産が^{さか}盛んである。
- (エ) 高崎市は県内有数の交通の要所であるが、県庁所在地は前橋市であり、人口は高崎市よりも前橋市が多い。

問3 下線部③について。長野県について述べた説明文として、誤っているものを、次の(ア)～(エ)から一つ選び、記号で答えなさい。

- (ア) 1998年の冬季オリンピック開催にあわせて、1997年に長野新幹線が開通した。
- (イ) 軽井沢町役場のホームページには、洪水・^{たかしお}高潮の危険から身を守るためのハザードマップがある。
- (ウ) ナウマンゾウの化石の発見で知られる野尻湖や、フォッサマグナとよばれる^{ちこうたい}地溝帯がみられる。
- (エ) アジア・太平洋戦争時に^{ぐんじゅ}軍需工場の^{そかい}疎開先となった岡谷では、戦後に精密機械工業が発展した。

問4 下線部④について。上越妙高駅のある新潟県について、あとの問いに答えなさい。

(1) 総務省は2019年10月現在、全国の20の都市を政令指定都市としており、新潟市は政令指定都市の一つです。政令指定都市として誤っているものを、次の(ア)～(エ)から一つ選び、記号で答えなさい。

- (ア) 静岡県浜松市
- (イ) 神奈川県相模原市
- (ウ) 大阪府堺市
- (エ) 香川県高松市

(2) 上越妙高駅のある上越市は2019年の8月14日に気温が40.3度を記録しました。高温の原因はフェーン現象と考えられています。このときみられたフェーン現象について述べた説明文として正しいものを(ア)～(エ)から一つ選び、記号で答えなさい。

- (ア) 南東や南からの湿った風が山を越える際に雨を降らせ、山を越えた地域で乾燥して高温になった。
- (イ) 南東や南からの乾いた風が山を越える際に雨を降らせ、山を越えた地域で湿って高温になった。
- (ウ) ユーラシア大陸からの湿った季節風が、日本海で水蒸気をさらにふくみ、高温になった。
- (エ) 太平洋からの乾いた季節風が、梅雨前線を刺激し高温になった。

(3) 新潟県には佐渡島^{さど}があり、佐渡島には北緯38度線が通っています。北緯38度線が通る国と都道府県の<組合せ>として正しいものを(ア)～(エ)から一つ選び、記号で答えなさい。

<組合せ>

- (ア) 大韓民国・青森県
- (イ) 中華人民共和国・宮城県
- (ウ) カナダ・栃木県
- (エ) ノルウェー・山形県

問5 下線部⑤について。富山県について述べた説明文として正しいものを、次の(ア)～(エ)から一つ選び、記号で答えなさい。

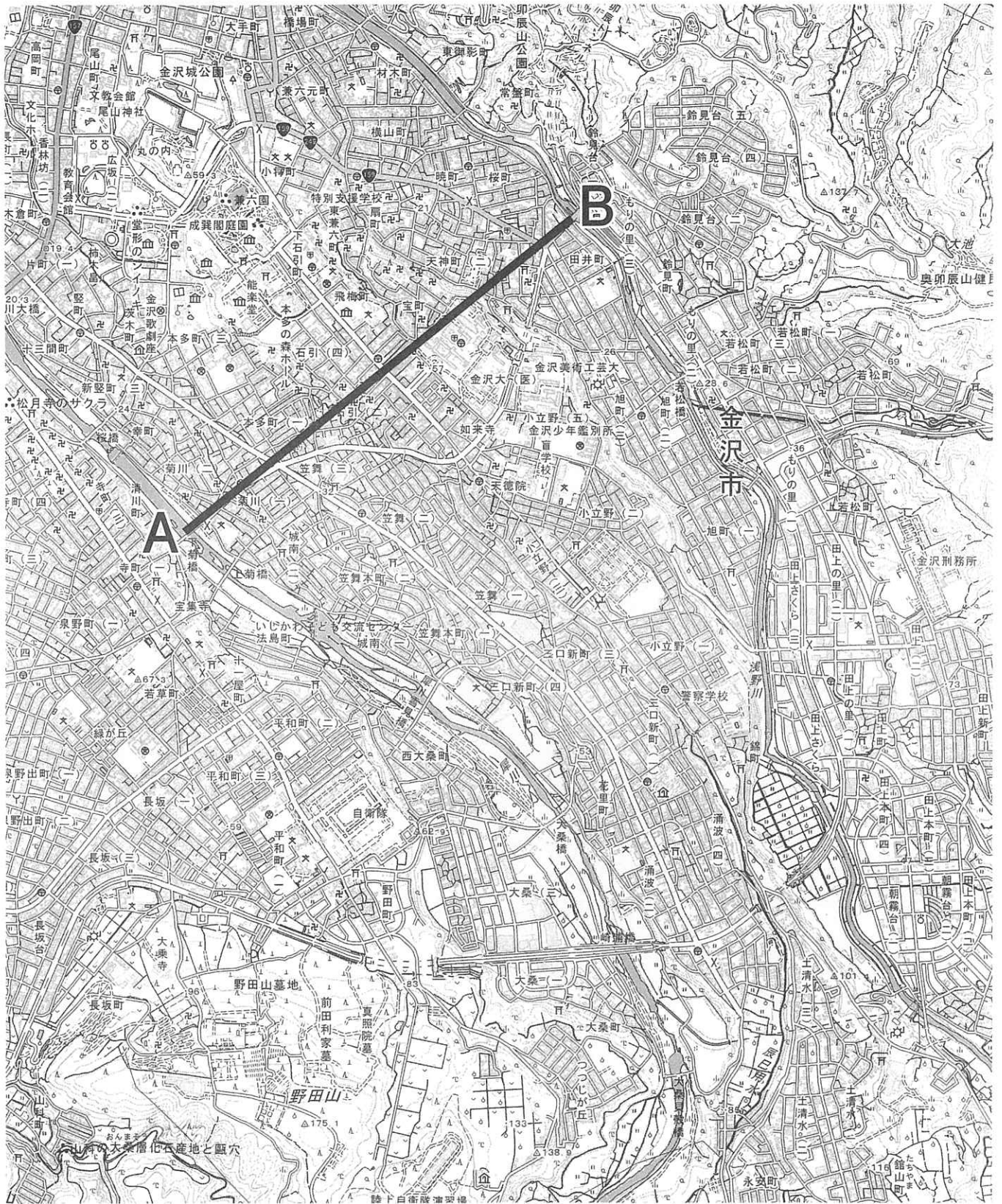
- (ア) 東部を流れる黒部川の上流に、水力発電用のダムが1960年代に完成したが、現在では使われなくなっている。
- (イ) 西部にある砺波平野^{となみ}には家と家とがはなれている農村がみられ、もともと水田だった耕地^{ゆうこう}を有効に活用するために、冬から春にかけてチューリップの球根が栽培されている。
- (ウ) 富山湾は、西にある渥美半島が冬の季節風をさえぎり、海がおだやかであること、河川が多くの栄養分^{えいようぶん}を運んでくることから古くから好漁場として知られている。
- (エ) 南部の高岡市では、缶詰用のさくらんぼの生産量が日本で最大であったが、北陸新幹線の開業により、生食用のさくらんぼの生産量が増加した。

問6 次の表は群馬県、長野県、新潟県、福井県における、米・野菜・果実の農業産出額をあらわしたものです。長野県にあてはまるものを次の(ア)～(エ)から一つ選び、記号で答えなさい。

	農業産出額	米	野菜	果実
(ア)	2,465	454	897	557
(イ)	470	288	89	9
(ウ)	2,583	1,484	386	80
(エ)	2,632	152	1,070	95

(単位は億円。『データでみる県勢2019』より作成)

問7 下線部⑥について。次の地形図をみて、あとの問いに答えなさい。

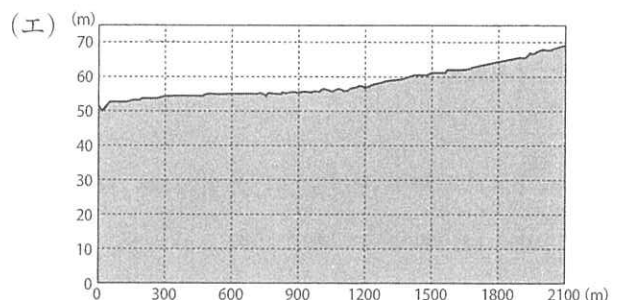
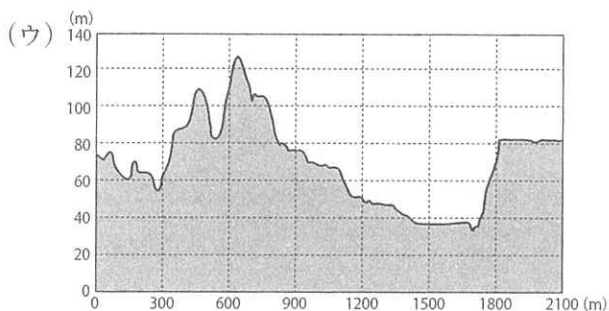
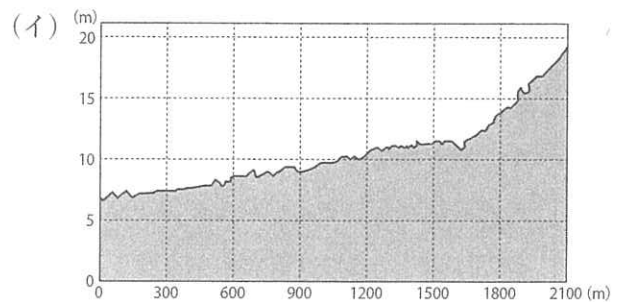
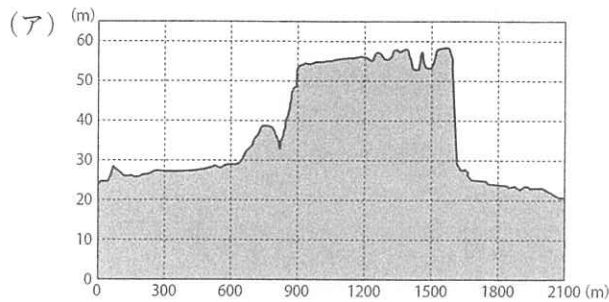


(国土地理院 平成 27 年発行 1 : 25000 地形図「金沢」を一部改変)

(1) 兼六園方面にむかって辰巳用水によって水がひかれています。兼六園からみて、どの方角から水がひかれていますか。次の(ア)～(エ)から正しいものを一つ選び、記号で答えなさい。

- (ア) 北西 (イ) 南西 (ウ) 南東 (エ) 北東

(2) 図中のA—B間の断面図として正しいものを、次の(ア)～(エ)から一つ選び、記号で答えなさい。




(国土交通省国土地理院 ホームページ 『地理院地図』より作成)

(3) この地形図について述べた説明文(ア)～(エ)から誤っているものを一つ選び、記号で答えなさい。

- (ア) 丸の内には金沢城と考えられる城跡の地図記号がみられる。
 (イ) この地形図からは犀川さいがわが流れる方向はわからない。
 (ウ) 兼六園周辺には博物館が複数みられ、図書館もみられる。
 (エ) 住宅等の建造物が密集しているが、田や果樹園の地図記号もみられる。

(4) 2019年3月に国土地理院は、2006年以来13年ぶりに地図記号の制定を発表しました。過去に発生した に関わることがらが記載されている石碑などを地図上に表記することで、身近な防災意識を高めることを目的としています。空欄 に共通してあてはまる語句を漢字4字で答えなさい。



伝承碑

Ⅱ 次の文章を読んで、あとの問いに答えなさい。

あ

1946（昭和 21）年に、①国際連合の専門機関として誕生したユネスコ（国際連合教育科学文化機関）は、教育、科学、文化、コミュニケーションを通じて国際理解や国際協力を進めています。ユネスコといえば世界遺産を思いおこす人も多いでしょう。世界には 1000 件以上の世界遺産が登録されており、②日本にも 20 以上の世界遺産があります。

世界遺産には自然遺産と文化遺産がありますが、日本にある世界自然遺産をみてみましょう。1993（平成 5）年に世界自然遺産として登録された③白神山地は、青森県から秋田県にまたがっており、^{げんせいとき}原生的な天然林がみられる山地です。また、同じ年に登録された世界遺産に屋久島があります。屋久島は九州と^{りくつづ}陸続きでしたが、氷期が終わると九州とは離れ、屋久島が形成されました。屋久島には屋久杉とよばれる^{じゅれい}樹齢 1000 年以上の巨木がみられ、その中には、④縄文時代からあったのではないかという説があるほど古く、太い「縄文杉」と呼ばれる杉の木があります。

問 1 下線部①について。国際連合について述べた説明文として正しいものを、次の（ア）～（エ）から一つ選び、記号で答えなさい。

- （ア）国際連合が^{ほっそく}発足した当時は、社会主義の国は、加盟することができなかった。
- （イ）国際連合のもとには、ユネスコの他にも、^{ダブリューディーオー ナ トー}W T O や N A T O などの専門機関があり、国際社会の相互理解につとめている。
- （ウ）国際連合の安全保障理事会では、アメリカ、中国、インド、ロシア、EU がその常任理事国とされている。
- （エ）現在の国際連合の事務局の責任者は、総会で選ばれたポルトガル出身のグテーレス事務総長である。

問 2 下線部②について。2019（令和元）年、^{も ず ふるいち}百舌鳥・古市古墳群があらたに世界遺産として登録されました。百舌鳥・古市古墳群について述べた説明文として正しいものを、次の（ア）～（エ）から一つ選び、記号で答えなさい。

- （ア）^{も ず ふるいち}百舌鳥・古市古墳群にふくまれる大仙陵（大山）古墳は、推古天皇陵といわれている。
- （イ）^{も ず ふるいち}百舌鳥・古市古墳群のある奈良盆地周辺が、ヤマト政権の中心地であったと考えられる。
- （ウ）^{も ず ふるいち}百舌鳥・古市古墳群には、おもに 5 世紀につくられた巨大な前方後円墳が集まっている。
- （エ）^{も ず ふるいち}百舌鳥・古市古墳群中の古墳のまわりには、土偶とよばれる、焼かれた^{つちせいひん}土製品がおかれている。

問3 下線部③について。白神山地の説明文として正しいものを、次の(ア)～(エ)から一つ選び、記号で答えなさい。

- (ア) 自然保護のため、現在では白神山地への観光客の立ち入りは、全面的に禁止されている。
- (イ) 白神山地は人びとが住む集落から離れていたため、天然林の伐採がほとんどおこなわれなかった。
- (ウ) 雄物川は白神山地を源流とした川で、日本海に流れこんでいる。
- (エ) 白神山地のヒノキ林は世界最大級で、そこにはカモシカ、イヌワシなどの希少な動物がいる。

問4 下線部④について。縄文時代の人びとの生活について述べた説明文として正しいものを、次の(ア)～(エ)から一つ選び、記号で答えなさい。

- (ア) 石のやじりをつけた弓矢や、落とし穴を使って猟をした。
- (イ) 百済から仏教が伝えられ、九州を中心にあつく信仰された。
- (ウ) 列島に小国が多く生まれ、土地や収穫物をめぐる争いがあった。
- (エ) 成年男子には、布をおさめる庸、特産物をおさめる調という税が課せられた。

い

日本の世界文化遺産として登録されているものには、「古都奈良の文化財」や、「古都京都の文化財」をはじめ多くのものがあります。

「古都奈良の文化財」として登録されている文化財には、天武天皇に関する薬師寺や⑤聖武天皇に関する東大寺などの寺院がありますが、仏教だけではなく神道に関するものもあります。例えば「古都奈良の文化財」として登録されている⑥は、藤原氏と関係が深い神社です。

京都は、桓武天皇が都を平安京に移してから、約1000年にわたり、政治や文化の中心として栄えていました。「古都京都の文化財」として登録された建物は、⑦平等院、⑧天竜寺(天龍寺)、二条城などのように京都市内にあるものだけでなく、宇治市や⑨大津市にもまたがり、その数は17にのぼります。二条城は、⑩徳川家康によって建てられ、1867年の⑪大政奉還の舞台となった城です。

問5 下線部⑤について。聖武天皇の時代におこったできごととして正しいものを、次の(ア)～(エ)から一つ選び、記号で答えなさい。

- (ア) 墾田永年私財法が出され、自ら切り開いた土地を永久に私有することが認められた。
- (イ) 白村江の戦いで、唐・新羅の連合軍に敗れた。
- (ウ) 遣隋使を派遣することで、中国だけでなくペルシアやインドの文化も受け入れた。
- (エ) 北条泰時が御成敗式目(貞永式目)をさだめ、裁判の基準をしめた。

問6 空欄⑥にあてはまる語句として正しいものを、次の(ア)～(エ)から一つ選び、記号で答えなさい。

- (ア) 伊勢神宮 (イ) 巖島神社 (ウ) 北野神社 (エ) 春日大社

問7 下線部⑦について。平等院は、藤原頼通が、父の道長から譲り受けた宇治の別荘を寺としたものです。藤原道長・頼通親子が朝廷で活躍していた時期の日本のようすについて述べた説明文として正しいものを、次の(ア)～(エ)から一つ選び、記号で答えなさい。

- (ア) 一遍が東北から九州をまわって、人びとに念仏を広めた。
(イ) 月に六回、定期市が開かれるようになり、取引に永楽通宝が使われた。
(ウ) 人びとが歌舞伎を楽しむようになり、脚本家の近松門左衛門が活躍した。
(エ) 阿弥陀仏にすがれば、死後に極楽に往生できるという浄土信仰が広まった。

問8 下線部⑧について。天竜(天龍)寺は、足利尊氏らが後醍醐天皇の冥福を祈り、建てた寺です。足利尊氏について述べた説明文として正しいものを、次の(ア)～(エ)から一つ選び、記号で答えなさい。

- (ア) はじめて武家諸法度をさだめ、大名たちによる参勤交代の仕組みを整えた。
(イ) 鎌倉幕府の有力な御家人の一人だったが、のちに鎌倉幕府を倒そうとする動きに加わった。
(ウ) 元軍が日本に攻め込んできた際には、執権として御家人をまとめ、元軍を撃退した。
(エ) 勘合を使用した明との貿易をはじめ、明から銅や絹織物などを輸入した。

問9 下線部⑨について。「古都京都の文化財」として登録されていますが、滋賀県大津市から京都府にまでまたがる寺を、次の(ア)～(エ)から一つ選び、記号で答えなさい。

- (ア) 延暦寺 (イ) 法隆寺 (ウ) 清水寺 (エ) 中尊寺

問10 下線部⑩について。徳川家康について述べた説明文として正しいものを、次の(ア)～(エ)から一つ選び、記号で答えなさい。

- (ア) 織田信長に命じられて東海地方から関東地方に移り、江戸に城下町をきずいた。
(イ) 子の徳川秀忠に將軍職をゆずったあとも、大御所として実権をにぎった。
(ウ) 二度にわたる大坂(大阪)の陣で豊臣秀吉を滅ぼしたのち、征夷大將軍に任じられた。
(エ) 北陸地方で発生した加賀の一向一揆を指導し、加賀国の守護を滅ぼした。

問 11 下線部⑪について。大政奉還の内容とは何ですか。正しいものを、次の(ア)～(エ)から一つ選び、記号で答えなさい。

- (ア) 討幕運動(倒幕運動)がもりあがる中、徳川慶喜が政権を朝廷へ返上したこと。
- (イ) 新たに明治天皇が即位するための儀式ぎしきがおこなわれたこと。
- (ウ) 明治政府が琉球藩を沖縄県として、日本の領土としたこと。
- (エ) 各藩の藩主たちが、土地と人民をいっせいに天皇へ返したこと。

う

⑫明治時代以降の建造物も、世界文化遺産として登録されているものがあります。例えば群馬県にある「⑬富岡製糸場きぬさんぎょうと絹産業遺産群」や、⑭広島県にある「広島の平和記念碑(原爆ドーム)」です。

富岡製糸場は、のちに内閣総理大臣となった⑮伊藤博文や実業家の渋沢栄一らが設立に関わり、1872年に官営模範工場として操業そうぎょうがはじまりました。ここでは、外国の製糸技術を取り入れて、絹織物をつくる材料となる生糸を生産していました。生糸が海外に輸出されることで、日本は多くの外貨を手に入れました。富岡製糸場で働く労働者たちは、平均して1日に7時間45分働き、日曜日や祭日は休みでした。また、富岡製糸場のそばにはフランス人の医師がいる診療所があり、当初は食事と医療費が保障されているなど、⑯労働者の福祉に配慮された、この時代としては近代的な⑰労働条件のもとで働いていました。

問 12 下線部⑫について。明治時代以降の建造物について述べた説明文として正しいものを、次の(ア)～(エ)から一つ選び、記号で答えなさい。

- (ア) 八幡製鉄所は、日清戦争で手に入れた賠償金ばいしょうきんをもとにして、満州に建設された。
- (イ) 東京駅は、フランス人のル・コルビュジエが設計した。
- (ウ) 国会議事堂で、犬養首相が暗殺された二・二六事件がおこった。
- (エ) 鹿鳴館で西洋風の舞踏会ぶとうかいなどを開き、政府は欧化政策おうかせいさくをすすめた。

問 13 下線部⑬について。富岡製糸場について述べた説明文として正しいものを、次の(ア)～(エ)から一つ選び、記号で答えなさい。

- (ア) 富岡製糸場で働くのは、各地で技術指導者となることを期待された男性労働者だった。
- (イ) 広い土地があり、周囲では養蚕がさかんだったため、富岡に工場が建てられた。
- (ウ) 機械を動かすための動力となる石炭は、群馬県内にある筑豊炭田から手に入れた。
- (エ) 富岡製糸場で働く労働者の賃金の上昇を求めて、田中正造が明治天皇に直訴じきました。

問 14 下線部⑭について。原爆ドームについて述べた説明文として正しいものを、次の (ア)～(エ) から一つ選び、記号で答えなさい。

- (ア) この建物は、もとはキリスト教の教会の聖堂であった。
- (イ) 原爆投下の際には爆心のほぼ真下にあったが、戦後、現在の場所に移築された。
- (ウ) 8月9日に広島に原爆を投下したのは、真珠湾から出撃したB-52型爆撃機であった。
- (エ) アメリカのオバマ大統領（当時）は広島を訪問し、原爆ドームや資料館を見学した。

問 15 下線部⑮について。伊藤博文は、大日本帝国憲法の制定に深くかかわった人物です。大日本帝国憲法について述べた説明文として正しいものを、次の (ア)～(エ) から一つ選び、記号で答えなさい。

- (ア) 大日本帝国憲法は、衆議院と参議院で審議・可決され、天皇の名によって発布された。
- (イ) 大日本帝国憲法では、天皇は象徴的存在で、政治からは距離をおくとされた。
- (ウ) 大日本帝国憲法は、イギリス憲法にならい「基本的人権」の考えをとり入れてさだめられた。
- (エ) 大日本帝国憲法は、現在の憲法へと改正されるまでは一度も改正されたことがなかった。

問 16 下線部⑯に関連して。日本では現在、いろいろな制度によって国民の生活を支えるしくみがとられています。このようなしくみについて述べた説明文として正しいものを、次の (ア)～(エ) から一つ選び、記号で答えなさい。

- (ア) 日本では、病気になった場合にはすべての人が無料で医療機関を受診できる。
- (イ) 「生活保護」の制度によって、65歳になればすべての人が年金を受け、住居が保障される。
- (ウ) 国民は、憲法に定める「ベーシックインカム」制度によって、就職の機会が保障される。
- (エ) 育児や介護のために仕事を休む人が仕事を失うことのないように、法律がさだめられている。

問 17 下線部⑰について。政府は、非正規労働者の労働条件の改善、労働時間の短縮など、仕事のしかたを変えようというとりくみをおこなっています。このようなとりくみを何とよびますか。解答欄の指示にしたがって答えなさい。

※の欄には何も記入しないこと

I

問1		問2	(1)	(2)	(3)	問3	
問4	(1)	(2)	(3)	問5		問6	
問7	(1)	(2)	(3)	(4)			

※

II

問1		問2		問3		問4		問5	
問6		問7		問8		問9		問10	
問11		問12		問13		問14		問15	
問16		問17				改革			

※

受験番号

得点
※